



# केन्द्रीय रिजर्व पुलिस बल CENTRAL RESERVE POLICE FORCE

Test Date	28/02/2023
Test Time	9:00 AM - 10:30 AM
Subject	Head Constable Ministerial

Section : Hindi Language

Q.1 किस वाक्य में पद क्रम के अनुसार लिखें गए हैं?

- Ans
- A. आजकल वहाँ काफी सरगर्मी दिखाई देती है।
  - B. दिखाई देती है सरगर्मी आजकल वहाँ।
  - C. सरगर्मी दिखाई देती है आजकल वहाँ।
  - D. सरगर्मी आजकल काफी वहाँ दिखाई देती है।

Question ID : 630680179809

Status : Not Answered

Chosen Option : --

Q.2 'जिस पर आक्रमण हो' वाक्यांश के लिए सार्थक शब्द है -

- Ans
- A. आगत पतिका
  - B. आक्रामक
  - C. आक्रांत
  - D. आक्रमण

Question ID : 630680179812

Status : Not Answered

Chosen Option : --

Q.3 'अधिक समय तक जीते रहने को इच्छुक' इस वाक्यांश के लिए सार्थक शब्द कौनसा है?

- Ans
- A. जिज्ञासु
  - B. जितेंद्रिय
  - C. जिगीषु
  - D. जिजीविषु

Question ID : 630680179811

Status : Not Answered

Chosen Option : --

Q.4 इनमें 'रुचि' शब्द का पर्यायवाची नहीं है -

- Ans
- A. दिलपसंद
  - B. प्रवृत्ति
  - C. जायका
  - D. लज्जतदार

Question ID : 630680179794  
Status : Not Answered  
Chosen Option : --


Q.5 आपकी \_\_\_\_ कन्या का विवाह कब है? रिक्त स्थान की पूर्ति के लिए सर्वाधिक उपयुक्त विकल्प का चयन कीजिए।

- Ans
- A. श्रीमती
  - B. सौभाग्यवती
  - C. विद्वान
  - D. सौभाग्याकांक्षिणी

Question ID : 630680179807  
Status : Not Answered  
Chosen Option : --

Q.6 कौनसा शब्द 'साधु' का समानार्थी नहीं है?

- Ans
- A. सज्जन
  - B. संत
  - C. संन्यासी
  - D. याचक



Question ID : 630680179797  
Status : Not Answered  
Chosen Option : --

Q.7 इनमें कौनसा परिमाणबोधक विशेषण है?

- Ans
- A. पूरे टुकड़े
  - B. सब जंगल
  - C. सब पेड़
  - D. सारे देश

Question ID : 630680179813  
Status : Not Answered  
Chosen Option : --

Q.8 'अविश्वसनीय और असंभव बात का होना' इस अर्थ को प्रकट करनेवाला कौनसा मुहावरा है?

- Ans
- A. अंबर के तारे डिगना
  - B. अंबर के तारे चुनना
  - C. अंबर के तारे देखना
  - D. अंबर के तारे गिनना

Question ID : 630680179803  
Status : Not Answered  
Chosen Option : --

Q.9 इनमें त्रुटि युक्त वाक्य नहीं है -

- Ans  A. मोहन का बैल या सोहन की गाय बिकेंगे।  
 B. बाघ और बकरी एक घाट पानी पीते हैं।  
 C. कृष्ण और राधा रस रचती है।  
 D. मोहन और सोहन सोता है।

Question ID : 630680179800  
Status : Not Answered  
Chosen Option : --

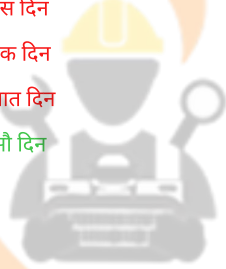
Q.10 इनमें वर्तनी की दृष्टि से कौनसा शब्द अशुद्ध नहीं है?

- Ans  A. त्रिवार्षिक  
 B. विभिषीका  
 C. विभिषिका  
 D. विभीषिका

Question ID : 630680179799  
Status : Not Answered  
Chosen Option : --

Q.11 'नया नौ दिन पुराना \_\_\_ दिन'। रिक्त स्थान पर उचित विकल्प का चयन कर लोकोक्ति पूर्ण कीजिए।

- Ans  A. दस दिन  
 B. एक दिन  
 C. सात दिन  
 D. सौ दिन



INDIA

Question ID : 630680179802  
Status : Not Answered  
Chosen Option : --

Q.12 'नागरिक' का विलोम शब्द कौनसा है?

- Ans  A. शहरी  
 B. नैसर्गिक  
 C. विनागरिक  
 D. ग्रामीण

Question ID : 630680179795  
Status : Not Answered  
Chosen Option : --

Q.13 'मैं तो जीना भारी होने से जीता हूँ।' वाक्य में 'जीना भारी होना' इस मुहावरे का अशुद्ध प्रयोग हुआ है। अतः वाक्य की पूर्ति के लिए सर्वाधिक उपयुक्त मुहावरा कौनसा है?

- Ans
- A. जी पकड़ लेना
  - B. जी पक जाना
  - C. जीना अपनी खुशी से
  - D. जी पकड़ा जाना

Question ID : 630680179801  
Status : Not Answered  
Chosen Option : --

Q.14 किस विकल्प में 'शायरा' का समानार्थी शब्द है?

- Ans
- A. कवयित्री
  - B. कविता
  - C. कवि
  - D. शायरी

Question ID : 630680179796  
Status : Not Answered  
Chosen Option : --

Q.15 पदक्रम की दृष्टि से कौनसा वाक्य शुद्ध है?

- Ans
- A. फूलों की एक माला चाहिए।
  - B. ठण्डा घड़े का पानी पिलाइए।
  - C. केवल चार रुपये मात्र दीजिए।
  - D. यह संभव हो सकता है।

Question ID : 630680179805  
Status : Not Answered  
Chosen Option : --

Q.16 पद क्रम के अनुसार कौनसा वाक्य सही है?

- Ans
- A. अनेक भाव प्रकट करती है यह कविता।
  - B. प्रकट करती है यह कविता अनेक भाव।
  - C. यह कविता अनेक भाव प्रकट करती है।
  - D. भाव अनेक प्रकट करती है यह कविता।

Question ID : 630680179810  
Status : Not Answered  
Chosen Option : --



Q.17 'नकटा बूचा सबसे ठिंगना'। अधोरेखित स्थान पर उचित शब्द या खंड बदल कर लोकोक्ति पूर्ण कीजिए।

- Ans  A. सबसे ऊँचा  
 B. सबसे नाटा  
 C. सबसे छोटा  
 D. सबसे अच्छा

Question ID : 630680179804  
Status : Not Answered  
Chosen Option : --

Q.18 कागज की खपत से किसी देश की \_\_\_\_\_ का अनुमान लगाया जा सकता है। रिक्त स्थान की पूर्ति के लिए कौनसा विकल्प सर्वाधिक उपयुक्त है?

- Ans  A. जनसंख्या और भाषा  
 B. पुस्तकें और कवियों  
 C. साक्षरता और प्रगति  
 D. निरक्षरता और आर्थिक उन्नति

Question ID : 630680179808  
Status : Not Answered  
Chosen Option : --

Q.19 इनमें शुद्ध वाक्य कौनसा है?

- Ans  A. श्रीकृष्ण के अनेकों नाम हैं।  
 B. एक गाय, दो घोड़े और एक बकरी मैदान में चर रही है।  
 C. कई रेलवे के कर्मचारियों की गिरफ्तारी हुई।  
 D. बंदूक एक बहुत उपयोगी शस्त्र है।

Question ID : 630680179806  
Status : Not Answered  
Chosen Option : --

Q.20 उसने कहा तुम क्या कर रहे हो। वाक्य के किस अंश में त्रुटि है?

- Ans  A. तुम  
 B. उसने कहा  
 C. क्या कर  
 D. रहे हो

Question ID : 630680179798  
Status : Not Answered  
Chosen Option : --

**Comprehension:**

निम्नलिखित गद्यांश पर आधारित दिए गए प्रश्नों के उत्तर दीजिए।

धर्म के आचरण की प्राप्ति यदि ऊपरी आडंबरों से होती तो आजकल भारत-निवासी सूर्य के समान शुद्ध आचरण वाले हो जाते। भाई! माला से तो जप नहीं होता। गंगा नहाने से तो तप नहीं होता। पहाड़ों पर चढ़ने से प्राणायाम हुआ करता है, समुद्र में तैरने से नेती धुलती है; आँधी, पानी और साधारण जीवन के ऊँच-नीच, गरमी-सरदी, गरीबी-अमीरी, को झेलने से तप हुआ करता है। आध्यात्मिक धर्म के स्वप्नों की शोभा तभी भली लगती है जब आदमी अपने जीवन का धर्म पालन करे। खुले समुद्र में अपने जहाज पर बैठकरही समुद्र की आध्यात्मिक शोभा का विचार होता है। भूखे को तो चंद्र और सूर्य भी केवल आटे की बड़ी-बड़ी दोरोटियां से प्रतीत होता है। कुटिया में ही बैठकर धूप, आँधी और बर्फ की दिव्य शोभा का आनंद आ सकता है। प्राकृतिक सभ्यता के आने पर ही मानसिक सभ्यता आती है और तभी वह स्थिर भी रह सकती है। मानसिक सभ्यता के होनेपर ही आचरण सभ्यता की प्राप्ति संभव है, और तभी वह स्थिर भी हो सकती है। जब तक निर्धन पुरुष पाप से अपना पेट भरता है तब तक धनवान पुरुष के शुद्धाचरण की पूरीपरीक्षा नहीं। इसी प्रकार जब तक अज्ञानी का आचरण अशुद्ध है तब तक ज्ञानवान के आचरण की पूरी परीक्षा नहीं - तब तक जगत में आचरण की सभ्यता का राज्य नहीं। आचरण की सभ्यता का देश ही निराला है। उसमें न शारीरिक झगड़े हैं, न मानसिक, न आध्यात्मिक। न उसमें विद्रोह है, न जंग ही का नामोनिशान है और न वहां कोई ऊँचाई, न नीचा। न कोई वहां धनवान है और न ही कोई वहां निर्धन। वहां प्रकृति का नाम नहीं, वहां तो प्रेम और एकता का अखंड राज्य रहता है।

**SubQuestion No : 21**

Q.21 गद्यांश के लिए उपयुक्त शीर्षक का चयन कीजिए।

- Ans  A. आचरण की सभ्यता  
 B. धर्म और आडंबर  
 C. प्राकृतिक सभ्यता  
 D. आचरण और प्रेम

Question ID : 630680179819

Status : Not Answered

Chosen Option : --

**Comprehension:**

निम्नलिखित गद्यांश पर आधारित दिए गए प्रश्नों के उत्तर दीजिए।

धर्म के आचरण की प्राप्ति यदि ऊपरी आडंबरों से होती तो आजकल भारत-निवासी सूर्य के समान शुद्ध आचरण वाले हो जाते। भाई! माला से तो जप नहीं होता। गंगा नहाने से तो तप नहीं होता। पहाड़ों पर चढ़ने से प्राणायाम हुआ करता है, समुद्र में तैरने से नेती धुलती है; आँधी, पानी और साधारण जीवन के ऊँच-नीच, गरमी-सरदी, गरीबी-अमीरी, को झेलने से तप हुआ करता है। आध्यात्मिक धर्म के स्वप्नों की शोभा तभी भली लगती है जब आदमी अपने जीवन का धर्म पालन करे। खुले समुद्र में अपने जहाज पर बैठकरही समुद्र की आध्यात्मिक शोभा का विचार होता है। भूखे को तो चंद्र और सूर्य भी केवल आटे की बड़ी-बड़ी दोरोटियां से प्रतीत होता है। कुटिया में ही बैठकर धूप, आँधी और बर्फ की दिव्य शोभा का आनंद आ सकता है। प्राकृतिक सभ्यता के आने पर ही मानसिक सभ्यता आती है और तभी वह स्थिर भी रह सकती है। मानसिक सभ्यता के होनेपर ही आचरण सभ्यता की प्राप्ति संभव है, और तभी वह स्थिर भी हो सकती है। जब तक निर्धन पुरुष पाप से अपना पेट भरता है तब तक धनवान पुरुष के शुद्धाचरण की पूरीपरीक्षा नहीं। इसी प्रकार जब तक अज्ञानी का आचरण अशुद्ध है तब तक ज्ञानवान के आचरण की पूरी परीक्षा नहीं - तब तक जगत में आचरण की सभ्यता का राज्य नहीं। आचरण की सभ्यता का देश ही निराला है। उसमें न शारीरिक झगड़े हैं, न मानसिक, न आध्यात्मिक। न उसमें विद्रोह है, न जंग ही का नामोनिशान है और न वहां कोई ऊँचाई, न नीचा। न कोई वहां धनवान है और न ही कोई वहां निर्धन। वहां प्रकृति का नाम नहीं, वहां तो प्रेम और एकता का अखंड राज्य रहता है।

**SubQuestion No : 22**

Q.22 'प्रकृति' का पर्यायवाची नहीं है -

- Ans  A. मूल रूप  
 B. मिज़ाज  
 C. मूल  
 D. मूल गुण

Question ID : 630680179815

Status : Not Answered

Chosen Option : --

**Comprehension:**

निम्नलिखित गद्यांश पर आधारित दिए गए प्रश्नों के उत्तर दीजिए।

धर्म के आचरण की प्राप्ति यदि ऊपरी आडंबरों से होती तो आजकल भारत-निवासी सूर्य के समान शुद्ध आचरण वाले हो जाते। भाई! माला से तो जप नहीं होता। गंगा नहाने से तो तप नहीं होता। पहाड़ों पर चढ़ने से प्राणायाम हुआ करता है, समुद्र में तैरने से नेती धुलती है; आँधी, पानी और साधारण जीवन के ऊँच-नीच, गरमी-सरदी, गरीबी-अमीरी, को झेलने से तप हुआ करता है। आध्यात्मिक धर्म के स्वप्नों की शोभा तभी भली लगती है जब आदमी अपने जीवन का धर्म पालन करे। खुले समुद्र में अपने जहाज पर बैठकरही समुद्र की आध्यात्मिक शोभा का विचार होता है। भूखे को तो चंद्र और सूर्य भी केवल आटे की बड़ी-बड़ी दोरोटियां से प्रतीत होता है। कुटिया में ही बैठकर धूप, आँधी और बर्फ की दिव्य शोभा का आनंद आ सकता है। प्राकृतिक सभ्यता के आने पर ही मानसिक सभ्यता आती है और तभी वह स्थिर भी रह सकती है। मानसिक सभ्यता के होनेपर ही आचरण सभ्यता की प्राप्ति संभव है, और तभी वह स्थिर भी हो सकती है। जब तक निर्धन पुरुष पाप से अपना पेट भरता है तब तक धनवान पुरुष के शुद्धाचरण की पूरीपरीक्षा नहीं। इसी प्रकार जब तक अज्ञानी का आचरण अशुद्ध है तब तक ज्ञानवान के आचरण की पूरी परीक्षा नहीं - तब तक जगत में आचरण की सभ्यता का राज्य नहीं। आचरण की सभ्यता का देश ही निराला है। उसमें न शारीरिक झगड़े हैं, न मानसिक, न आध्यात्मिक। न उसमें विद्रोह है, न जंग ही का नामोनिशान है और न वहां कोई ऊँचाई, न नीचा। न कोई वहां धनवान है और न ही कोई वहां निर्धन। वहां प्रकृति का नाम नहीं, वहां तो प्रेम और एकता का अखंड राज्य रहता है।

**SubQuestion No : 23****Q.23 गद्यांश की मूल संवेदना कौनसी है?**

- Ans  A. धर्म के आचरण की प्राप्ति ऊपरी आडंबरों से होती।  
 B. आचरण की सभ्यता का आधार प्रकृति है।  
 C. जहाँ आचरण की सभ्यता होती है वहाँ प्रेम तथा एकता होती है।  
 D. सभ्यता को कुटिया में ही बैठकर समझा जा सकता है।

Question ID : 630680179818

Status : Not Answered

Chosen Option : --

**Comprehension:**

निम्नलिखित गद्यांश पर आधारित दिए गए प्रश्नों के उत्तर दीजिए।

धर्म के आचरण की प्राप्ति यदि ऊपरी आडंबरों से होती तो आजकल भारत-निवासी सूर्य के समान शुद्ध आचरण वाले हो जाते। भाई! माला से तो जप नहीं होता। गंगा नहाने से तो तप नहीं होता। पहाड़ों पर चढ़ने से प्राणायाम हुआ करता है, समुद्र में तैरने से नेती धुलती है; आँधी, पानी और साधारण जीवन के ऊँच-नीच, गरमी-सरदी, गरीबी-अमीरी, को झेलने से तप हुआ करता है। आध्यात्मिक धर्म के स्वप्नों की शोभा तभी भली लगती है जब आदमी अपने जीवन का धर्म पालन करे। खुले समुद्र में अपने जहाज पर बैठकरही समुद्र की आध्यात्मिक शोभा का विचार होता है। भूखे को तो चंद्र और सूर्य भी केवल आटे की बड़ी-बड़ी दोरोटियां से प्रतीत होता है। कुटिया में ही बैठकर धूप, आँधी और बर्फ की दिव्य शोभा का आनंद आ सकता है। प्राकृतिक सभ्यता के आने पर ही मानसिक सभ्यता आती है और तभी वह स्थिर भी रह सकती है। मानसिक सभ्यता के होनेपर ही आचरण सभ्यता की प्राप्ति संभव है, और तभी वह स्थिर भी हो सकती है। जब तक निर्धन पुरुष पाप से अपना पेट भरता है तब तक धनवान पुरुष के शुद्धाचरण की पूरीपरीक्षा नहीं। इसी प्रकार जब तक अज्ञानी का आचरण अशुद्ध है तब तक ज्ञानवान के आचरण की पूरी परीक्षा नहीं - तब तक जगत में आचरण की सभ्यता का राज्य नहीं। आचरण की सभ्यता का देश ही निराला है। उसमें न शारीरिक झगड़े हैं, न मानसिक, न आध्यात्मिक। न उसमें विद्रोह है, न जंग ही का नामोनिशान है और न वहां कोई ऊँचाई, न नीचा। न कोई वहां धनवान है और न ही कोई वहां निर्धन। वहां प्रकृति का नाम नहीं, वहां तो प्रेम और एकता का अखंड राज्य रहता है।

**SubQuestion No : 24****Q.24 आध्यात्मिक धर्म के स्वप्नों की शोभा कब भली लगती है?**

- Ans  A. जब आदमी धर्म के महत्व को जनता है।  
 B. जब आदमी अपने जीवन का धर्म पालन करता है।  
 C. जब आदमी धर्म के ऊपरी आडंबरों मानता है।  
 D. जब आदमी तप पूरा करता है।

Question ID : 630680179816

Status : Not Answered

Chosen Option : --

### Comprehension:

निम्नलिखित गद्यांश पर आधारित दिए गए प्रश्नों के उत्तर दीजिए।

धर्म के आचरण की प्राप्ति यदि ऊपरी आडंबरों से होती तो आजकल भारत-निवासी सूर्य के समान शुद्ध आचरण वाले हो जाते। भाई! माला से तो जप नहीं होता। गंगा नहाने से तो तप नहीं होता। पहाड़ों पर चढ़ने से प्राणायाम हुआ करता है, समुद्र में तैरने से नेती धुलती है; आँधी, पानी और साधारण जीवन के ऊँच-नीच, गरमी-सरदी, गरीबी-अमीरी, को झेलने से तप हुआ करता है। आध्यात्मिक धर्म के स्वप्नों की शोभा तभी भली लगती है जब आदमी अपने जीवन का धर्म पालन करे। खुले समुद्र में अपने जहाज पर बैठकरही समुद्र की आध्यात्मिक शोभा का विचार होता है। भूखे को तो चंद्र और सूर्य भी केवल आटे की बड़ी-बड़ी दोरोटियां से प्रतीत होता है। कुटिया में ही बैठकर धूप, आँधी और बर्फ की दिव्य शोभा का आनंद आ सकता है। प्राकृतिक सभ्यता के आने पर ही मानसिक सभ्यता आती है और तभी वह स्थिर भी रह सकती है। मानसिक सभ्यता के होनेपर ही आचरण सभ्यता की प्राप्ति संभव है, और तभी वह स्थिर भी हो सकती है। जब तक निर्धन पुरुष पाप से अपना पेट भरता है तब तक धनवान पुरुष के शुद्धाचरण की पूरीपरीक्षा नहीं। इसी प्रकार जब तक अज्ञानी का आचरण अशुद्ध है तब तक ज्ञानवान के आचरण की पूरी परीक्षा नहीं - तब तक जगत में आचरण की सभ्यता का राज्य नहीं। आचरण की सभ्यता का देश ही निराला है। उसमें न शारीरिक झगड़े हैं, न मानसिक, न आध्यात्मिक। न उसमें विद्रोह है, न जंग ही का नामोनिशान है और न वहां कोई ऊँचाई, न नीचा। न कोई वहां धनवान है और न ही कोई वहां निर्धन। वहां प्रकृति का नाम नहीं, वहां तो प्रेम और एकता का अखंड राज्य रहता है।

### SubQuestion No : 25

Q.25 आचरण की सभ्यता की प्राप्ति कब संभव है?

- Ans
- A. प्राकृतिक सभ्यता के आने के बाद।
  - B. मानसिक सभ्यता के आने के बाद।
  - C. खुले समुद्र में जहाज पर बैठने के बाद।
  - D. ज्ञानवान के आचरण की परीक्षा के बाद।

Question ID : 630680179817

Status : Not Answered

Chosen Option : --

Section : English Language

Q.1 The following sentence has been divided into parts. One of them may contain an error. Select the part that contains the error from the given options. If you don't find any error, mark 'No error' as your answer.  
I don't think the teacher / will have been discussed / this poem in the class.

- Ans
- A. No error
  - B. I don't think the teacher
  - C. this poem in the class
  - D. will have been discussed

Question ID : 630680179839

Status : Answered

Chosen Option : D

Q.2 Select the INCORRECTLY spelt word.

- Ans
- A. Bewildar
  - B. Necessary
  - C. Tomorrow
  - D. Conceive

Question ID : 630680179825

Status : Answered

Chosen Option : C

**Q.3** Select the most appropriate idiom that can substitute the underlined segment in the given sentence.

He flatters the boss to his face but criticises him in his absence.

- Ans
- A. at random
  - B. behind the scenes
  - C. at home
  - D. behind his back

Question ID : 630680179822  
Status : Answered  
Chosen Option : B

**Q.4** Select the most appropriate option to fill in the blanks.

I put \_\_\_\_\_, \_\_\_\_\_, \_\_\_\_\_ tomatoes in the soup.

- Ans
- A. red, large, two
  - B. red, two, large
  - C. two, large, red
  - D. large, two, red

Question ID : 630680179837  
Status : Answered  
Chosen Option : C

**Q.5** Select the option that can be used as a one-word substitute for the given group of words.

A large shed for storing grain, straw or keeping animals

- Ans
- A. Godown
  - B. Field
  - C. Barn
  - D. Granary

INDIA

Question ID : 630680179833  
Status : Answered  
Chosen Option : A

**Q.6** Select the most appropriate option to fill in the blank.

He went abroad at \_\_\_\_\_ age of 18.

- Ans
- A. a
  - B. No word required
  - C. the
  - D. an

Question ID : 630680179838  
Status : Answered  
Chosen Option : B

Q.7 Parts of a sentence are given below in jumbled order. Arrange the parts in the correct order to form a meaningful sentence.

- A. went out upon the sea
- B. rose out of the water and sang to him
- C. every evening the young Fisherman
- D. and called to the mermaid who

Ans  A. CABD

B. CADB

C. CBDA

D. CDBA

Question ID : 630680179827

Status : Answered

Chosen Option : B

Q.8 Select the most appropriate option to fill in the blanks.

Although our age \_\_\_\_\_ all previous ages in knowledge, there has been no \_\_\_\_\_ increase in wisdom.

Ans  A. surpasses, correlative

B. accedes, mutual

C. humiliates, contemporary

D. demeans, crucial

Question ID : 630680179832

Status : Not Answered

Chosen Option : --

Q.9 Select the most appropriate idiom that can substitute the underlined segment in the given sentence.

We need practical people in the office not those who think of impossible hopes and dreams.

Ans  A. bide their time

B. build castles in the air

C. blow their own trumpet

D. beat a retreat

Question ID : 630680179823

Status : Answered

Chosen Option : B

Q.10 Select the most appropriate synonym of the given word.

Disdain

Ans  A. Avarice

B. Reverence

C. Contempt

D. Benevolence

Question ID : 630680179821

Status : Answered

Chosen Option : A

Q.11 Select the most appropriate option to fill in the blank.  
I \_\_\_\_\_ agree with what you have said.

- Ans  A. actively  
 B. completely  
 C. utterly  
 D. carefully

Question ID : 630680179836  
Status : Answered  
Chosen Option : B

Q.12 Select the most appropriate option to fill in the blanks.  
There are various \_\_\_\_\_ for writing autobiographies. Some have left memoirs which they  
\_\_\_\_\_ would be published after their death.

- Ans  A. achievements, instructed  
 B. motives, intended  
 C. demands, desired  
 D. copyrights, expected

Question ID : 630680179831  
Status : Answered  
Chosen Option : A

Q.13 Select the most appropriate idiom that can substitute the underlined segment in the given sentence.  
He who talks in a straightforward manner wins admiration in the long run.

- Ans  A. beats about the bush  
 B. has a bee in his bonnet  
 C. calls a spade a spade  
 D. cuts the Gordian knot

INDIA

Question ID : 630680179824  
Status : Answered  
Chosen Option : D

Q.14 Select the option that can be used as a one-word substitute for the given group of words.  
One who believes all people are motivated by selfish needs

- Ans  A. Fanatic  
 B. Ascetic  
 C. Cynic  
 D. Lunatic

Question ID : 630680179835  
Status : Answered  
Chosen Option : D

Q.15 Select the INCORRECTLY spelt word.

- Ans  A. Recommend  
 B. Sedentary  
 C. Imperative  
 D. Monotonous

Question ID : 630680179826  
Status : Answered  
Chosen Option : B

Q.16 Select the most appropriate synonym of the given word.  
Discord

- Ans  A. Peace  
 B. Tumult  
 C. Happiness  
 D. Goodwill

Question ID : 630680179820  
Status : Answered  
Chosen Option : B

Q.17 Select the most appropriate option to fill in the blanks.  
Everyone was impressed with him. He \_\_\_\_\_ wisdom and \_\_\_\_\_ beyond his years.

- Ans  A. produced, understanding  
 B. performed, maturity  
 C. displayed, patience  
 D. showed, folly

INDIA

Question ID : 630680179830  
Status : Answered  
Chosen Option : B

Q.18 Select the option that can be used as a one-word substitute for the given group of words.  
Official inspection of a firm's accounts

- Ans  A. Audit  
 B. Raid  
 C. Survey  
 D. Analysis

Question ID : 630680179834  
Status : Answered  
Chosen Option : A



Q.19 Select the most appropriate option to fill in the blanks.

The most \_\_\_\_\_ thing in management is the point of \_\_\_\_\_ between worker and boss.

- Ans
- A. easy, trust
  - B. common, union
  - C. important, touch
  - D. vital, contact

Question ID : 630680179829

Status : Answered

Chosen Option : B

Q.20 Sentences of a paragraph are given below in jumbled order. Arrange the sentences in the correct order to form a meaningful and coherent paragraph.

A. It was winter, and a night of bitter cold.

B. Once upon a time two poor Woodcutters were making their way home through a great pine-forest.

C. The frost kept snapping the little twigs from the trees on either side of them, as they passed by.

D. The snow lay thick upon the ground, and upon the branches of the trees.

- Ans
- A. ACDB
  - B. CABD
  - C. DABC
  - D. BADC

Question ID : 630680179828

Status : Answered

Chosen Option : D



INDIA

**Comprehension:**

Read the given passage and answer the questions that follow.

A key aspect of wildlife species conservation is the protection of their natural habitats. Once the home where wildlife can survive and reproduce is lost, saving species becomes a humongous task. Restoring habitats over large areas is very expensive and almost impossible, especially for species that need big spaces. It could be the cheetah, tiger, elephant, rhino, lion-tailed macaque, whales or sea turtles, the picture for some species remains the same – they need vast contiguous spaces.

India is now at a critical juncture when the priority is to achieve ever-higher levels of economic growth. To achieve this economic aspiration, we have ignored that saving natural habitats is mandatory, rather than a luxury. Words like 'sustainable development', 'sustainable use' have ended up being mere buzzwords. Laws that were cornerstones of conservation have been weakened under the pretext that they need to be 'development-friendly'. Those responsible for the loss of wildlife habitats are rarely brought to justice.

Worldwide, another aspect that leads to the extinction of species is the direct extermination of species for trade or consumption. With the increasing human population and growing wealth, the demand for body parts or meat of certain wildlife species is on the rise. The killing of animals must be curtailed through a combination of law enforcement and education. The loss of one species can have a chain reaction, leading to the loss of other plants and animals or even the collapse of the entire ecosystem.

SubQuestion No : 21

Q.21 Which of the following species can survive in small habitats?

- Ans  A. Elephant  
 B. Fish  
 C. Whale  
 D. Rhino



Question ID : 630680179842

Status : Answered

Chosen Option : B

**Comprehension:**

Read the given passage and answer the questions that follow.

A key aspect of wildlife species conservation is the protection of their natural habitats. Once the home where wildlife can survive and reproduce is lost, saving species becomes a humongous task. Restoring habitats over large areas is very expensive and almost impossible, especially for species that need big spaces. It could be the cheetah, tiger, elephant, rhino, lion-tailed macaque, whales or sea turtles, the picture for some species remains the same – they need vast contiguous spaces.

India is now at a critical juncture when the priority is to achieve ever-higher levels of economic growth. To achieve this economic aspiration, we have ignored that saving natural habitats is mandatory, rather than a luxury. Words like 'sustainable development', 'sustainable use' have ended up being mere buzzwords. Laws that were cornerstones of conservation have been weakened under the pretext that they need to be 'development-friendly'. Those responsible for the loss of wildlife habitats are rarely brought to justice.

Worldwide, another aspect that leads to the extinction of species is the direct extermination of species for trade or consumption. With the increasing human population and growing wealth, the demand for body parts or meat of certain wildlife species is on the rise. The killing of animals must be curtailed through a combination of law enforcement and education. The loss of one species can have a chain reaction, leading to the loss of other plants and animals or even the collapse of the entire ecosystem.

SubQuestion No : 22

Q.22 'Humongous' as used in the passage means:

- Ans  A. sustainable  
 B. enormous  
 C. expensive  
 D. inhuman



Question ID : 630680179844

Status : Answered

Chosen Option : A

INDIA

**Comprehension:**

Read the given passage and answer the questions that follow.

A key aspect of wildlife species conservation is the protection of their natural habitats. Once the home where wildlife can survive and reproduce is lost, saving species becomes a humongous task. Restoring habitats over large areas is very expensive and almost impossible, especially for species that need big spaces. It could be the cheetah, tiger, elephant, rhino, lion-tailed macaque, whales or sea turtles, the picture for some species remains the same – they need vast contiguous spaces.

India is now at a critical juncture when the priority is to achieve ever-higher levels of economic growth. To achieve this economic aspiration, we have ignored that saving natural habitats is mandatory, rather than a luxury. Words like 'sustainable development', 'sustainable use' have ended up being mere buzzwords. Laws that were cornerstones of conservation have been weakened under the pretext that they need to be 'development-friendly'. Those responsible for the loss of wildlife habitats are rarely brought to justice.

Worldwide, another aspect that leads to the extinction of species is the direct extermination of species for trade or consumption. With the increasing human population and growing wealth, the demand for body parts or meat of certain wildlife species is on the rise. The killing of animals must be curtailed through a combination of law enforcement and education. The loss of one species can have a chain reaction, leading to the loss of other plants and animals or even the collapse of the entire ecosystem.

SubQuestion No : 23

Q.23 It may become impossible to save a species if:

- Ans
- A. human population grows rapidly
  - B. its natural habitat is destroyed
  - C. enough money is not spent on it
  - D. poachers are not punished



Question ID : 630680179841

Status : Answered

Chosen Option : A

**Comprehension:**

Read the given passage and answer the questions that follow.

A key aspect of wildlife species conservation is the protection of their natural habitats. Once the home where wildlife can survive and reproduce is lost, saving species becomes a humongous task. Restoring habitats over large areas is very expensive and almost impossible, especially for species that need big spaces. It could be the cheetah, tiger, elephant, rhino, lion-tailed macaque, whales or sea turtles, the picture for some species remains the same – they need vast contiguous spaces.

India is now at a critical juncture when the priority is to achieve ever-higher levels of economic growth. To achieve this economic aspiration, we have ignored that saving natural habitats is mandatory, rather than a luxury. Words like 'sustainable development', 'sustainable use' have ended up being mere buzzwords. Laws that were cornerstones of conservation have been weakened under the pretext that they need to be 'development-friendly'. Those responsible for the loss of wildlife habitats are rarely brought to justice.

Worldwide, another aspect that leads to the extinction of species is the direct extermination of species for trade or consumption. With the increasing human population and growing wealth, the demand for body parts or meat of certain wildlife species is on the rise. The killing of animals must be curtailed through a combination of law enforcement and education. The loss of one species can have a chain reaction, leading to the loss of other plants and animals or even the collapse of the entire ecosystem.

SubQuestion No : 24

Q.24 Which of the following statements is INCORRECT?

- Ans  A. Poaching of certain species is for the purpose of conservation.
- B. Laws on conservation should be strictly enforced.
- C. Saving natural habitats is compulsory, rather than a luxury.
- D. Loss of one species may have an adverse effect on others.

Question ID : 630680179845

Status : Answered

Chosen Option : C



INDIA

### Comprehension:

Read the given passage and answer the questions that follow.

A key aspect of wildlife species conservation is the protection of their natural habitats. Once the home where wildlife can survive and reproduce is lost, saving species becomes a humongous task. Restoring habitats over large areas is very expensive and almost impossible, especially for species that need big spaces. It could be the cheetah, tiger, elephant, rhino, lion-tailed macaque, whales or sea turtles, the picture for some species remains the same – they need vast contiguous spaces.

India is now at a critical juncture when the priority is to achieve ever-higher levels of economic growth. To achieve this economic aspiration, we have ignored that saving natural habitats is mandatory, rather than a luxury. Words like 'sustainable development', 'sustainable use' have ended up being mere buzzwords. Laws that were cornerstones of conservation have been weakened under the pretext that they need to be 'development-friendly'. Those responsible for the loss of wildlife habitats are rarely brought to justice.

Worldwide, another aspect that leads to the extinction of species is the direct extermination of species for trade or consumption. With the increasing human population and growing wealth, the demand for body parts or meat of certain wildlife species is on the rise. The killing of animals must be curtailed through a combination of law enforcement and education. The loss of one species can have a chain reaction, leading to the loss of other plants and animals or even the collapse of the entire ecosystem.

SubQuestion No : 25

Q.25 The priority of our country seems to be:

- Ans  A. economic growth  
 B. saving wildlife  
 C. population growth  
 D. increasing animal trade

Question ID : 630680179843

Status : Answered

Chosen Option : A

Section : General Aptitude

Q.1 भारत की जलवायु को मोटे तौर पर \_\_\_\_\_ के रूप में वर्णित किया गया है।

- Ans  A. मानसून प्रकार  
 B. मध्यम प्रकार  
 C. चरम प्रकार  
 D. समशीतोष्ण प्रकार

Question ID : 630680179865

Status : Answered

Chosen Option : A

Q.2 वेद समाज के संबंध में निम्नलिखित में से कौन सा कथन गलत है?

- Ans  A. वेद समाज के सबसे लोकप्रिय नेता चेम्बेटी श्रीधरालु नायडू थे।  
 B. वेद समाज की स्थापना 1864 में मद्रास में हुई थी और इसने जाति भेद को खत्म करने और विधवा पुनर्विवाह को बढ़ावा देने का समर्थन किया था।  
 C. इसने रूढ़िवादी हिंदू धर्म के अंधविश्वासों और कर्मकांडों की निंदा की और एकल सर्वोच्च ईश्वर में श्रद्धा का प्रचार किया।  
 D. चेम्बेटी श्रीधरालु नायडू ने वेद समाज की पुस्तकों का संस्कृत और कन्नड़ में अनुवाद किया।

Question ID : 630680179854

Status : Answered

Chosen Option : C

Q.3 निम्नलिखित में से कौन सा खेल राष्ट्रीय वायु खेल नीति 2022 में शामिल नहीं है?

- Ans  A. हवाई कलाबाज़ी  
 B. निशानेबाज़ी  
 C. एयरोमॉडलिंग  
 D. बैलूनिंग

Question ID : 630680179851

Status : Not Answered

Chosen Option : --

Q.4 निम्नलिखित में से कौन सा विकल्प जानवरों में संगठन का स्तर नहीं है?

- Ans  A. कोशिकीय स्तर संगठन  
 B. संगठन का अंग स्तर  
 C. ऊतक स्तर संगठन  
 D. संगठन का मांसपेशी स्तर

Question ID : 630680179868

Status : Answered

Chosen Option : D

Q.5 शासक और उनके शासन की अवधि के संबंध में निम्नलिखित में से कौन सा गलत है?

- Ans  A. तोमर (Tomaras), प्रारंभिक बारहवीं शताब्दी-1165  
 B. अनंग पाल, 1130-1145  
 C. रज़िया सुल्तान, 1236-1240  
 D. पृथ्वीराज चौहान, 1180-1196

Question ID : 630680179852

Status : Answered

Chosen Option : B

Q.6 बौद्ध स्तूपों के संबंध में निम्नलिखित कथनों में से कौन सा विकल्प सत्य है?

- i. ईसा पूर्व तीसरी शताब्दी के एक स्तूप की संरचना का सबसे अच्छा उदाहरण राजस्थान के बेराट में है। यह एक गोलाकार टिले वाला बहुत ही भव्य स्तूप है जिसमें एक प्रदक्षिणा पथ है।  
ii. अशोक के समय में सांची के महान स्तूप को ईंटों से बनाया गया था, और बाद में, इसे पत्थरों से ढक दिया गया और उसमें कई नए परिवर्धन किए गए।

- Ans  A. विकल्प i और ii, दोनों गलत हैं।  
 B. केवल विकल्प ii सही है।  
 C. विकल्प i और ii, दोनों सही हैं।  
 D. केवल विकल्प i सही है।

Question ID : 630680179856

Status : Answered

Chosen Option : C

Q.7 हिंदुस्तानी शास्त्रीय संगीत के संबंध में निम्नलिखित में से कौन सा सही नहीं है?

- Ans  A. हिंदुस्तानी शास्त्रीय संगीत न केवल प्राचीन हिंदू संगीत परंपराओं और वैदिक दर्शन से प्रभावित था, बल्कि फारसी तत्वों से भी प्रभावित था।
- B. इसकी उत्पत्ति 10वीं और 11वीं शताब्दी के आसपास उत्तर भारत में हुई थी।
- C. हिंदुस्तानी संगीत राग प्रणाली पर आधारित है।
- D. हिंदुस्तानी शास्त्रीय संगीत मुख्य रूप से स्वर-केंद्रित है।

Question ID : 630680179860

Status : Not Answered

Chosen Option : --

Q.8 उस्ताद अमजद अली खान एक प्रसिद्ध \_\_\_\_\_ वादक हैं।

- Ans  A. सरोद
- B. तबला
- C. सारंगी
- D. सितार

Question ID : 630680179858

Status : Answered

Chosen Option : D

Q.9 निम्नलिखित में से कौन सा लावणी का एक प्रकार नहीं है?

- Ans  A. बैठकीची लावणी
- B. श्रृंगारी लावणी
- C. खुल्ला लावणी
- D. निर्गुणी लावणी

Question ID : 630680179859

Status : Not Answered

Chosen Option : --

Q.10 निम्नलिखित में से कौन सा कथन भारतीय वन अधिनियम के संबंध में गलत है?

- Ans  A. इसमें दो बार संशोधन किया गया, एक बार 1878 में और फिर 1927 में।
- B. सर्वोत्तम वनों को संरक्षित वन कहा जाता था।
- C. इसे 1865 में अधिनियमित किया गया था।
- D. 1878 के अधिनियम ने वनों को तीन श्रेणियों में विभाजित किया था : आरक्षित, संरक्षित और ग्रामीण वन।

Question ID : 630680179855

Status : Not Answered

Chosen Option : --



Q.11 निम्नलिखित में से किस राजवंश ने दिल्ली पर शासन नहीं किया?

- Ans  A. सैय्यद राजवंश  
 B. खिलजी राजवंश  
 C. तुगलक राजवंश  
 D. क्विन राजवंश

Question ID : 630680179853

Status : Answered

Chosen Option : D

Q.12 शास्त्रीय नृत्य कथकली भारत के किस राज्य से संबंधित है?

- Ans  A. केरल  
 B. कर्नाटक  
 C. आंध्रप्रदेश  
 D. तमिलनाडु

Question ID : 630680179857

Status : Answered

Chosen Option : B

Q.13 टूरंड कप 2022 के संबंध में निम्नलिखित में से कौन सा गलत है?

- Ans  A. एशिया के सबसे पुराने फुटबॉल टूर्नामेंट के फाइनल में शिव शक्ति (10वें मिनट) और एलन कोस्टा (61वें मिनट) ने विजेताओं के लिए गोल किए।  
 B. यह टूरंड कप का 132वां संस्करण था।  
 C. आखिरी मुकाबला कोलकाता के साल्ट लेक स्टेडियम में हुआ।  
 D. बेंगलुरु ने नवागत - मुंबई शहर को 2-1 से हराकर अपना पहला टूरंड कप जीता।

Question ID : 630680179849

Status : Not Answered

Chosen Option : --

Q.14 निम्नलिखित में से कौन सा विकल्प भारत के सूक्ष्म वित्तीय संस्थान का नाम नहीं है?

- Ans  A. आरोहण फ़ाइनेंशियल सर्विसेज़ लिमिटेड  
 B. अन्नपूर्णा फाइनेंस प्रा. लि.  
 C. बैंक बाज़ार फ़ाइनेंशियल सर्विसेज़ प्रा. लि.  
 D. बंधन फ़ाइनेंशियल सर्विसेज़ प्रा. लि.

Question ID : 630680179861

Status : Not Answered

Chosen Option : --

Q.15 डॉ. देवदीप को 2021 में विज्ञान की किस श्रेणी में एस. एस. भटनागर पुरस्कार प्रदान किया गया था?

- Ans  A. अभियांत्रिकी विज्ञान  
 B. गणितीय विज्ञान  
 C. चिकित्सीय विज्ञान  
 D. रासायनिक विज्ञान

Question ID : 630680179846  
Status : Answered  
Chosen Option : C

Q.16 निम्नलिखित में से कौन सा विकल्प भारत की एक प्रमुख भौतिक विशेषता का नाम नहीं है?

- Ans  A. भारतीय रेगिस्तान  
 B. हिमालयी पर्वत  
 C. उत्तरी पठार  
 D. उत्तरी मैदान

Question ID : 630680179864  
Status : Not Answered  
Chosen Option : --

Q.17 मानव विकास सूचकांक 2021 के संबंध में निम्नलिखित में से कौन सा विकल्प सही नहीं है?

- Ans  A. भारत को मध्यम मानव विकास श्रेणी में रखा गया है।  
 B. एचडीआई (HDI) में भारत का 132वां स्थान है।  
 C. इसमें कुल 195 देशों ने भाग लिया था।  
 D. भारत को 0.633 का एचडीआई (HDI) मान प्राप्त हुआ है।

Question ID : 630680179863  
Status : Marked For Review  
Chosen Option : A

Q.18 भारत-नेपाल की शांति और मित्रता की संधि वर्ष \_\_\_\_\_ में लागू हुई थी।

- Ans  A. 1960  
 B. 1980  
 C. 1950  
 D. 1970

Question ID : 630680179866  
Status : Marked For Review  
Chosen Option : B

Q.19 2021-22 में, सरकार द्वारा 15 वें वित्त आयोग चक्र, अर्थात् वित्तीय वर्ष \_\_\_\_\_ के दौरान संशोधित प्रधान मंत्री जन विकास कार्यक्रम (PMJVK) को जारी रखने के लिए अनुमोदन मिल गया था।

- Ans
- A. 2022-23 से 2026-27
  - B. 2024-25 से 2028-29
  - C. 2021-22 से 2025-26
  - D. 2023-24 से 2027-28

Question ID : 630680179848  
Status : Answered  
Chosen Option : A

Q.20 भारत में 2022 के दौरान, खेलों की उपलब्धियों के संबंध में निम्नलिखित में से कौन सा गलत है?

- Ans
- A. इतिहास में पहली बार, भारतीय पुरुष टीम ने 14 बार के विश्व चैंपियन इंडोनेशिया को हराकर अंतरराष्ट्रीय थॉमस कप जीता
  - B. बर्मिंघम के राष्ट्रमंडल खेलों में 22 स्वर्ण पदकों सहित, कुल 61 पदकों के साथ भारत ने अपने सर्वश्रेष्ठ प्रदर्शनों में से एक दर्ज किया
  - C. गुजरात में 38वें राष्ट्रीय खेलों का सफलतापूर्वक आयोजन किया गया
  - D. 44 उत्कृष्ट एथलीटों/कोचों को राष्ट्रीय खेल और साहसिक पुरस्कार 2022 प्रदान किए गए

Question ID : 630680179850  
Status : Not Answered  
Chosen Option : --

Q.21 निम्नलिखित में से कौन सा विकल्प भारतीय व्यवस्था की विशेषता नहीं है?

- Ans
- A. संघवाद
  - B. धर्मनिरपेक्षता
  - C. सरकार का संसदीय स्वरूप
  - D. सभी शक्तियां केंद्र सरकार के पास होती हैं

Question ID : 630680179870  
Status : Answered  
Chosen Option : D

Q.22 अभी तक, भारत के संविधान के अनुसार निम्नलिखित में से कौन सा विकल्प मौलिक अधिकार नहीं है?

- Ans
- A. समानता का अधिकार
  - B. स्वतंत्रता का अधिकार
  - C. शोषण के विरुद्ध अधिकार
  - D. संपत्ति का अधिकार

Question ID : 630680179869  
Status : Marked For Review  
Chosen Option : D

Q.23 कुछ सामान, जिन्हें सार्वजनिक सामान कहा जाता है, बाजार तंत्र के माध्यम से अर्थात् व्यक्तिगत उपभोक्ताओं और उत्पादकों के बीच लेन-देन द्वारा प्रदान नहीं किया जा सकता है, और सरकार द्वारा प्रदान किया जाना चाहिए। यह \_\_\_\_\_ है।

- Ans
- A. वितरण प्रकार्य
  - B. स्थिरीकरण प्रकार्य
  - C. विनियोग प्रकार्य
  - D. आवंटन प्रकार्य

Question ID : 630680179862  
Status : Not Answered  
Chosen Option : --

Q.24 यांत्रिक अभियांत्रिकी के प्राध्यापक और अनुसंधान तथा विकास के डीन (Dean) सुमन चक्रवर्ती को \_\_\_\_\_ में अभियांत्रिकी तथा कंप्यूटर विज्ञान में इंफोसिस पुरस्कार 2022 से सम्मानित किया गया।

- Ans
- A. भारतीय प्रौद्योगिकी संस्थान, रुड़की
  - B. भारतीय प्रौद्योगिकी संस्थान, खड़गपुर
  - C. भारतीय प्रौद्योगिकी संस्थान, दिल्ली
  - D. भारतीय प्रौद्योगिकी संस्थान, बॉम्बे

Question ID : 630680179847  
Status : Answered  
Chosen Option : A

Q.25 निम्नलिखित में से किस उद्योग का नाम उसके द्वारा प्रयुक्त कच्चे माल के आधार पर नहीं रखा गया है?

- Ans
- A. कृषि आधारित उद्योग
  - B. वस्त्र उद्योग
  - C. वन आधारित उद्योग
  - D. खनिज आधारित उद्योग

INDIA

Question ID : 630680179867  
Status : Answered  
Chosen Option : B

Section : General Intelligence

Q.1 एक निश्चित कूट भाषा में, 'SHOWS' को 'SWOHS' के रूप में लिखा जाता है, और 'FLAWS' को 'SWALF' के रूप में लिखा जाता है। उस भाषा में 'NOISE' को किस रूप में लिखा जाएगा?

- Ans
- A. ESONI
  - B. ESION
  - C. ESNIO
  - D. SEION

Question ID : 630680179878  
Status : Answered  
Chosen Option : B

Q.2 निम्नलिखित संख्या अक्षर प्रतीक श्रृंखला का संदर्भ लें और प्रश्न का उत्तर दें।  
(बाएं) Y 4 H 5 % 5 F 3 4 G 9 & 7 N 9 W @ 4 E 3 # 3 P 6 7 M 5 N 8 B 4 3 A E 5 G 3 & % 5 G 8 U 3  
Y 5 4 B N 3 # E (दाएं)  
उपरोक्त अनुक्रम में कितने अक्षरों के तुरंत बाद और तुरंत पहले भी एक विषम संख्या हैं? (केवल बाएं से दाएं गिनने पर विचार करें)

- Ans
- A. 3
  - B. 6
  - C. 4
  - D. 5

Question ID : 630680179877  
Status : Answered  
Chosen Option : C

Q.3 दिए गए विकल्पों में से उस संख्या का चयन करें जो निम्नलिखित श्रृंखला में प्रश्न चिह्न (?) को प्रतिस्थापित कर सकती है।  
23, 24, 32, 59, 123, ?

- Ans
- A. 268
  - B. 248
  - C. 236
  - D. 202

Question ID : 630680179892  
Status : Answered  
Chosen Option : B

Q.4 शशांक ने एक महिला के फोटो की ओर इशारा करते हुए कहा, 'वह मेरी मां की मां के पुत्र की पत्नी है।' उस महिला के पति का शशांक की माँ से क्या संबंध है?

- Ans
- A. भाई
  - B. पिता
  - C. पुत्र
  - D. भांजा/भतीजा

Question ID : 630680179881  
Status : Answered  
Chosen Option : A

Q.5 शब्द CONSIDER में अक्षरों के ऐसे कितने युग्म हैं, जिनके बीच उतने ही अक्षर हैं जितने अंग्रेजी वर्णमाला श्रृंखला में हैं? (आगे और पीछे दोनों दिशाओं में गणना करें)

- Ans
- A. 4
  - B. 2
  - C. 3
  - D. 1

Question ID : 630680179875  
Status : Not Answered  
Chosen Option : --

Q.6 वह विकल्प चुनिए, जो पांचवें अक्षर-समूह से उसी प्रकार संबंधित है, जिस प्रकार पहला अक्षर-समूह दूसरे अक्षर-समूह से संबंधित है और तीसरा अक्षर-समूह चौथे अक्षर-समूह से संबंधित है।  
ZCRU : YVGD :: KNZP : TDRO :: CWSB : ?

- Ans  A. GVAG  
 B. FWAG  
 C. FWBH  
 D. GWAH

Question ID : 630680179883

Status : Answered

Chosen Option : B

Q.7 K, L, M, N और P नामक पांच पारिवारिक सदस्यों में से; L की आयु, K की आयु की आधी है। M की आयु, K और L की कुल आयु के बराबर है। P की आयु, N की आयु की दोगुनी है। M की आयु, N की आयु की आधी है। K, L और M की कुल आयु 24 वर्ष है। परिवार के सभी छह सदस्यों में सबसे बड़ा कौन है?

- Ans  A. N  
 B. P  
 C. K  
 D. M

Question ID : 630680179874

Status : Answered

Chosen Option : A

Q.8 सात मित्र - P, Q, R, S, T, U और V एक सीधी पंक्ति में उत्तर की ओर अभिमुख होकर बैठे हैं। U ठीक बीच में बैठा है। P और S के बीच केवल T बैठा है। R और Q के बीच केवल V बैठा है। T, U के बाईं ओर दूसरे स्थान पर है। P, V के बाईं ओर तीसरे स्थान पर है। U के सन्निकट बाईं ओर कौन बैठा है?

- Ans  A. P  
 B. Q  
 C. S  
 D. R

Question ID : 630680179871

Status : Answered

Chosen Option : A

Q.9 यदि 7 मई, 2006 को रविवार है, तो 12 जून, 2009 को सप्ताह का कौन सा दिन होगा?

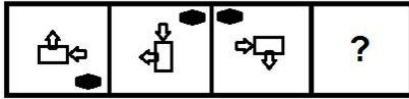
- Ans  A. गुरुवार  
 B. शुक्रवार  
 C. शनिवार  
 D. रविवार

Question ID : 630680179876

Status : Not Answered

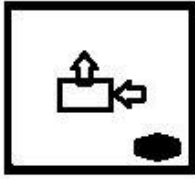
Chosen Option : --

Q.10 दिए गए विकल्पों में से उस आकृति का चयन करें जो निम्नलिखित श्रृंखला में प्रश्न चिह्न (?) को प्रतिस्थापित कर सकती है।

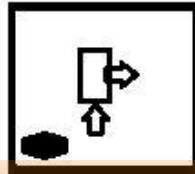


Ans

✗ A.



✓ B.



✗ C.



✗ D.

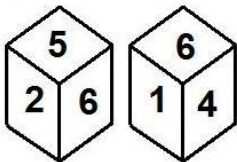


Question ID : 630680179889

Status : Answered

Chosen Option : B

Q.11 एक ही पासे की दो अलग-अलग स्थितियां दर्शायी गई हैं, जिसके छह फलकों पर 1 से 6 तक संख्याएं अंकित हैं। उस संख्या का चयन करें, जो संख्या '3' वाले फलक के विपरीत फलक पर होगी।



Ans ✗ A. 2

✓ B. 6

✗ C. 4

✗ D. 5

Question ID : 630680179891

Status : Answered

Chosen Option : B

Q.12 चार शब्द-युग्म दिए गए हैं, जिनमें से तीन किसी प्रकार से एक समान हैं और एक असंगत है। उसका चयन करें जो असंगत है।

- Ans  A. क्यूबा : हवाना  
 B. ऑस्ट्रिया : हरारे  
 C. मिस्र : काहिरा  
 D. भूटान : थिम्पू

Question ID : 630680179887

Status : Answered

Chosen Option : B

Q.13 एक लड़का एक उद्यान में उत्तर-पश्चिम दिशा की ओर अभिमुख होकर खड़ा है। वह 135 अंश वामावर्त मुड़ता है और उसके बाद 90 अंश दक्षिणावर्त मुड़ता है। वह अब किस दिशा की ओर अभिमुख है?

- Ans  A. दक्षिण  
 B. पूर्व  
 C. पश्चिम  
 D. उत्तर

Question ID : 630680179880

Status : Answered

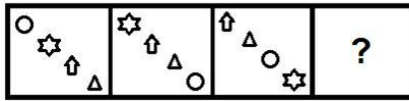
Chosen Option : C



INDIA

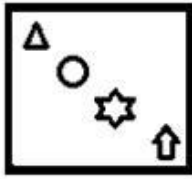


Q.14 दिए गए विकल्पों में से उस आकृति का चयन करें जो निम्नलिखित श्रृंखला में प्रश्न चिह्न (?) को प्रतिस्थापित कर सकती है।

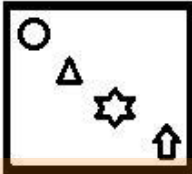


Ans

✓ A.



✗ B.



✗ C.



✗ D.



Question ID : 630680179888

Status : Answered

Chosen Option : A

Q.15 चार अक्षर-समूह युग्म दिए गए हैं, जिनमें से तीन किसी प्रकार से एक समान हैं और एक असंगत है। उसका चयन करें जो असंगत है।

Ans ✗ A. PRIZES : JSQTFA

✗ B. MARGIN : SBNOJH

✗ C. NORWAY : SPOZBX

✓ D. ZODIAC : EPADCK

Question ID : 630680179886

Status : Answered

Chosen Option : D

Q.16 चार अक्षर -समूह युग्म दिए गए हैं, जिनमें से तीन किसी प्रकार से एक समान हैं और एक असंगत है। उसका चयन करें जो असंगत है।

- Ans  A. FINE : GKQI  
 B. DONE : EQSI  
 C. TINY : UKQC  
 D. GLOW : HNRA

Question ID : 630680179884  
Status : Answered  
Chosen Option : B

Q.17 एक निश्चित कूट भाषा में, 'PARK' को '92' के रूप में कूटबद्ध किया जाता है और 'SOAP' को '102' के रूप में कूटबद्ध किया जाता है। उस भाषा में 'CLAW' को किस रूप में लिखा जाएगा?

- Ans  A. 92  
 B. 78  
 C. 86  
 D. 74

Question ID : 630680179879  
Status : Answered  
Chosen Option : B

Q.18 पांच मित्र K, L, M, N और P एक गोलाकार मेज के परितः मेज़ के केंद्र की ओर अभिमुख होकर बैठे हैं, लेकिन आवश्यक नहीं कि वे इसी क्रम में हों। M, P के दाईं ओर दूसरे स्थान पर है। N, K के बाईं ओर तीसरे स्थान पर है। N, L के सन्निकट बाईं ओर है। N के दाईं ओर दूसरे स्थान पर कौन है?

- Ans  A. K  
 B. M  
 C. P  
 D. L

Question ID : 630680179872  
Status : Answered  
Chosen Option : C

Q.19 एक इमारत के विभिन्न तलों पर K, L, M, N, O, P और R नामक सात मित्र रहते हैं। सबसे निचले तल की संख्या 1 है, उसके ऊपर वाले तल की संख्या 2 है और इसी प्रकार शीर्ष तल तक, जिसकी संख्या 7 है, अन्य तलों की संख्याएं हैं। P और N तलों के बीच केवल तीन व्यक्ति रहते हैं। R, M के तल के ठीक ऊपर वाले तल पर रहता है। K और R के तलों के बीच केवल दो व्यक्ति रहते हैं। R, K के ऊपर किसी तल पर रहता है। L, O के तल के ठीक नीचे वाले तल पर रहता है। P तल 5 पर रहता है। M किस तल पर रहता है?

- Ans  A. तल 6  
 B. तल 2  
 C. तल 4  
 D. तल 7

Question ID : 630680179873  
Status : Answered  
Chosen Option : A

Q.20 A @ B का अर्थ है कि 'A, B का पति है',  
 A % B का अर्थ है कि 'A, B का भाई है', और  
 A = B का अर्थ है कि 'A, B की पुत्री है'।  
 यदि D % U = K = P @ V है, तो V का D के साथ क्या संबंध है?

- Ans
- A. मौसी/मामी
  - B. बहन
  - C. नानी
  - D. माँ

Question ID : 630680179882  
 Status : Answered  
 Chosen Option : C

Q.21 चार अक्षर-समूह दिए गये हैं, जिनमें से तीन किसी प्रकार से एक समान हैं और एक असंगत है। उसका चयन करें जो असंगत है।

- Ans
- A. NTZE
  - B. BHNT
  - C. LRXD
  - D. SYEK


Question ID : 630680179885  
 Status : Answered  
 Chosen Option : A





Q.22 निम्नलिखित समीकरण को संतुलित करने के लिए किन दो संख्याओं को आपस में बदला जाना चाहिए?  
 $71 + 18 - 36 \div 9 \times 28 = 27$

- Ans
- A. 9 और 28
  - B. 18 और 36
  - C. 71 और 28
  - D. 28 और 18

Question ID : 630680179894  
 Status : Answered  
 Chosen Option : D

Q.23 दर्पण को 'PQ' पर रखने पर, जैसा कि नीचे दर्शाया गया है, दिए गए संयोजन की सही दर्पण छवि का चयन करें।

Z 4 N g p K 

- Ans
- A. 
  - B. 
  - C. 
  - D. 

Question ID : 630680179890  
 Status : Answered  
 Chosen Option : A

Q.24 दिए गए विकल्पों में से उस संख्या का चयन करें जो निम्नलिखित श्रृंखला में प्रश्न चिह्न (?) को प्रतिस्थापित कर सकती है।

14, 20, 17, 25, 20, 30, 23, 35, ?

Ans  A. 42

B. 26

C. 29

D. 40

Question ID : 630680179893

Status : Answered

Chosen Option : B

Q.25 एक निश्चित कूट भाषा में, यदि '&' का अर्थ '+' है, '#' का अर्थ 'x' है, '@' का अर्थ '=' है और '%' का अर्थ '-' है, तो निम्नलिखित का मान ज्ञात कीजिए।

$35 @ 7 \& (24 \# 5) \% 11 \& (55 @ 5) \% 27 = ?$

Ans  A. 95

B. 90

C. 102

D. 98

Question ID : 630680179895

Status : Answered

Chosen Option : D

Section : Quantitative Aptitude

INDIA

Q.1 यदि 6 अंकों की संख्या  $10a82b$ , 112 से विभाज्य है, तो  $a \times b$  का मान क्या है?

Ans  A. 18

B. 24

C. 30

D. 12

Question ID : 630680179899

Status : Marked For Review

Chosen Option : B

Q.2 निम्नलिखित तालिका का ध्यानपूर्वक अध्ययन करें और दिए गए प्रश्न का उत्तर दें।

5 वर्षों में छह देशों का कुल निर्यात (करोड़ ₹ में)

देश/वर्ष	2016	2017	2018	2019	2020
A	80	25	50	70	60
B	50	40	25	45	75
C	30	80	30	50	50
D	45	50	45	25	95
E	75	65	40	60	100

लाभ = निर्यात - आयात

यदि सभी देशों का कुल आयात ₹285 करोड़ था, तो वर्ष 2020 में सभी देशों का समेकित लाभ (करोड़ ₹ में) कितना था?

- Ans
- A. 110
  - B. 95
  - C. 100
  - D. 90


Question ID : 630680179917

Status : Marked For Review

Chosen Option : D

Q.3 एक व्यक्ति, बिंदु A से बिंदु B तक एक कार से 54 km/h की औसत चाल से यात्रा करता है और अपनी बाइक पर x km/h की औसत चाल से वापस आता है। यदि पूरी यात्रा में उसकी औसत चाल 47.25 km/h है, तो x का मान क्या है?

- Ans
- A. 50
  - B. 48
  - C. 42
  - D. 40



INDIA

Question ID : 630680179902

Status : Answered

Chosen Option : C

Q.4 दो बिंदुओं A और B के बीच की दूरी 100 km है। एक नाव द्वारा मंगलवार को धारा के प्रतिकूल यात्रा करने में लगा समय, उसके द्वारा शनिवार को धारा के अनुकूल यात्रा करने में लगे समय के बराबर है। मंगलवार को धारा की चाल, 2 km/h होती है और शनिवार को मंगलवार की चाल की आधी होती है। यदि मंगलवार को स्थिर जल में नाव की चाल 22 km/h है, तो शनिवार को स्थिर जल में नाव की चाल ज्ञात कीजिए।

- Ans
- A. 15 km/h
  - B. 21 km/h
  - C. 19 km/h
  - D. 12 km/h

Question ID : 630680179913

Status : Not Answered

Chosen Option : --

Q.5 पेट्रोल की कीमत में 35% की वृद्धि होने पर, यदि पेट्रोल के व्यय में कोई बदलाव नहीं होता है, तो उपभोक्ता को खपत कितने प्रतिशत कम करनी चाहिए (दो दशमलव स्थानों तक पूर्णांकित)?

- Ans
- A. 28.56%
  - B. 25.92%
  - C. 32.48%
  - D. 36.96%

Question ID : 630680179905  
Status : Answered  
Chosen Option : B

Q.6 एक कक्षा के 48 विद्यार्थियों का औसत भार 37 kg है। यदि एक शिक्षक का भार भी शामिल कर लिया जाए, तो औसत भार में 1.2 kg की वृद्धि होती है। शिक्षक का भार (kg में) कितना है?

- Ans
- A. 82.6
  - B. 95.8
  - C. 90.4
  - D. 86.8

Question ID : 630680179901  
Status : Answered  
Chosen Option : A

Q.7 रमेश ने पहले 2 वर्षों के लिए 5.5% प्रति वर्ष की दर से, अगले 6 वर्षों के लिए 8.5% प्रति वर्ष की दर से, और 8 वर्ष से अधिक की अवधि के लिए 14% प्रति वर्ष की दर से कुछ धन उधार लिया। यदि 12 वर्षों के लिए भुगतान किया गया कुल ब्याज ₹10,030 है, तो उसने कितना धन (₹ में) उधार लिया था?

- Ans
- A. 8,000
  - B. 1,000
  - C. 9,000
  - D. 8,500

Question ID : 630680179910  
Status : Answered  
Chosen Option : D

Q.8 36 विद्यार्थियों के वर्ग A में विद्यार्थियों की औसत आयु 12 वर्ष है, और 44 विद्यार्थियों के वर्ग B में विद्यार्थियों की औसत आयु 10 वर्ष है। दोनों वर्गों में मिलाकर विद्यार्थियों की औसत आयु (वर्षों में) क्या है?

- Ans
- A. 10.9
  - B. 11
  - C. 10.4
  - D. 10

Question ID : 630680179900  
Status : Answered  
Chosen Option : A

Q.9 एक विद्यार्थी ने 30% अंक प्राप्त किए और 50 अंकों से अनुत्तीर्ण हो गया, जबकि 42% अंक प्राप्त करने वाले एक अन्य विद्यार्थी ने न्यूनतम आवश्यक उत्तीर्ण अंकों से 58 अंक अधिक प्राप्त किए। उस परीक्षा के लिए उत्तीर्ण अंक क्या हैं?

- Ans  A. 320  
 B. 270  
 C. 240  
 D. 750

Question ID : 630680179904

Status : Answered

Chosen Option : B

Q.10 आंशिक रूप से जल से भरे एक लम्ब वृत्तीय बेलनाकार बर्तन में 18 cm व्यास का एक गोला गिर जाता है। बेलनाकार बर्तन के आधार की त्रिज्या, गोले की त्रिज्या का दो गुना है। यदि गोला पूरी तरह से पानी में डूब गया है, तो बेलनाकार बर्तन में पानी का स्तर कितना ऊपर उठेगा? ( $\pi = \frac{22}{7}$  का प्रयोग कीजिए)

- Ans  A. 4 cm  
 B. 2 cm  
 C. 3 cm  
 D. 1 cm

Question ID : 630680179920

Status : Not Answered

Chosen Option : --

Q.11 मान लीजिए कि 5 अंकों की न्यूनतम संख्या  $x$  है, जिसे 15, 24, 32 और 48 से विभाजित करने पर हर बार शेषफल 9 मिलता है और  $x$ , 19 से विभाज्य है।  $x$  के अंकों का योग क्या है?

- Ans  A. 12  
 B. 15  
 C. 18  
 D. 10

Question ID : 630680179898

Status : Not Answered

Chosen Option : --

Q.12 सुरेश और नरेश किसी कार्य को क्रमशः 12 और 15 दिनों में कर सकते हैं। यदि वे प्रत्येक 1 दिन, एकांतर रूप से काम करना शुरू करते हैं और यदि कार्य की शुरुआत सुरेश करता है, तो वे कार्य का 75% पूरा करने में कितने दिनों का समय लेंगे?

- Ans  A. 9  
 B. 8  
 C. 12  
 D. 10

Question ID : 630680179915

Status : Answered

Chosen Option : D

Q.13 दो पाइप A और B एक टंकी को क्रमशः 12 hrs में और 15 hrs में भर सकते हैं, और C नामक अन्य पाइप 25 L/h की दर से खाली कर सकता है। यदि तीनों पाइप एक साथ काम करते हैं, तो वे टंकी को 10 hrs में भर सकते हैं। टंकी की क्षमता (L में) क्या है?

- Ans
- A. 1,000
  - B. 800
  - C. 600
  - D. 500

Question ID : 630680179916  
Status : Not Answered  
Chosen Option : --

Q.14  $\sqrt{\sqrt{4489} - \sqrt{47^2 + 392}} = ?$

- Ans
- A. 6
  - B. 2
  - C. 4
  - D. 1

Question ID : 630680179896  
Status : Marked For Review  
Chosen Option : D

Q.15 1 वर्ष के लिए 15% प्रतिवर्ष की दर से निवेश की गई एक निश्चित राशि पर अर्धवार्षिक रूप से चक्रवृद्धित ब्याज ₹1,307.25 है। 20% प्रति वर्ष की दर से साधारण ब्याज पर उसी राशि की रकम (₹ में)  $6\frac{1}{2}$  वर्षों में कितनी होगी?

- Ans
- A. 17,230
  - B. 18,850
  - C. 18,620
  - D. 19,320

Question ID : 630680179911  
Status : Not Answered  
Chosen Option : --



Q.16 A किसी कार्य का  $\frac{3}{4}$  भाग 12 दिनों में कर सकता है, और B शेष कार्य को 5 दिनों में पूरा कर सकता है। A और B मिलकर उस कार्य को कितने दिनों में पूरा कर सकते हैं?

Ans

A.  $9\frac{8}{9}$

B.  $9\frac{1}{8}$

C.  $8\frac{8}{9}$

D.  $8\frac{1}{9}$

Question ID : 630680179914

Status : Answered

Chosen Option : C

Q.17 दो उम्मीदवारों के बीच हुए एक चुनाव में, 15% मतदाताओं ने अपने वोट नहीं डाले और 10% मतों को अवैध घोषित कर दिया गया। विजयी उम्मीदवार को 8262 मत मिले, जो कुल वैध मतों के 72% थे। वैध मतों की कुल संख्या कितनी थी?

Ans

A. 12,800

B. 11,475

C. 10,200

D. 11,255

Question ID : 630680179906

Status : Answered

Chosen Option : A

Q.18 शिव का मानना है कि, उसका भार 65 kg से ज्यादा लेकिन 72 kg से कम है। शिव की बहन उससे सहमत नहीं है, और वह सोचती है कि शिव का भार 60 kg से ज्यादा लेकिन 70 kg से कम है। उनके पिता का मानना है कि उसका भार 68 kg से ज्यादा नहीं हो सकता। यदि वे सभी अपने अनुमान में सही हैं, तो शिव के विभिन्न संभावित भारों (kg में) का औसत क्या है?

Ans

A. 66

B. 67

C. 68

D. 69

Question ID : 630680179903

Status : Not Answered

Chosen Option : --

Q.19 45 km चलने के लिए किरण को स्वामी से 5 hrs अधिक लगते हैं। लेकिन, यदि किरण अपनी चाल दो गुना कर देता है, तो वह स्वामी से  $2\frac{1}{2}$  hrs आगे निकल जाता है। स्वामी की चाल (km/h में) क्या है?

- Ans  A. 4.5  
 B. 4  
 C. 5  
 D. 3.5

Question ID : 630680179918  
Status : Not Answered  
Chosen Option : --

Q.20 दो चचेरे भाइयों की वर्तमान आयु का अनुपात 4 : 7 है। 5 वर्ष के बाद, उनकी आयु का अनुपात 37 : 61 होगा। 8 वर्ष के बाद उनकी आयु का अनुपात क्या होगा?

- Ans  A. 5 : 8  
 B. 8 : 5  
 C. 5 : 9  
 D. 5 : 7

Question ID : 630680179908  
Status : Answered  
Chosen Option : A

Q.21 तीन भागीदारों A, B और C में से प्रत्येक ने ₹48,000 का निवेश करके एक व्यवसाय शुरू किया। 5 महीनों के बाद, A ने व्यवसाय छोड़ दिया; 9 महीनों के बाद, B ने व्यवसाय छोड़ दिया; और 12 महीनों के बाद, C ने व्यवसाय छोड़ दिया। यदि कुल अर्जित लाभ ₹5,850 है, तो C का हिस्सा B से कितने प्रतिशत अधिक है?

- Ans  A. 43%  
 B.  $33\frac{1}{3}$ %  
 C. 37%  
 D.  $39\frac{1}{3}$ %

Question ID : 630680179909  
Status : Not Answered  
Chosen Option : --

Q.22 एक दुकान के मालिक के पास समान लागत मूल्य की 120 वस्तुएं हैं। वह उनमें से 25% को 25% लाभ पर बेचता है, शेष वस्तुओं में से एक तिहाई वस्तुओं को 30% हानि पर बेचता है और शेष वस्तुओं को 15 वस्तुओं के लागत मूल्य के बराबर लाभ पर बेचता है। पूरे सौदे में उसका लाभ प्रतिशत क्या है?

- Ans  A. 11.25%  
 B. 10%  
 C. 13.75%  
 D. 12%

Question ID : 630680179907  
Status : Not Answered  
Chosen Option : --

Q.23 दो बोटलों की ऊंचाई 28 cm है। एक बोटल बेलनाकार है, जिसके आधार का व्यास 12 cm है। दूसरी बोटल का तल वर्गाकार है, जिसकी भुजा 12 cm है। उनकी क्षमताओं का योग (cm<sup>3</sup> में) क्या है? ( $\pi = \frac{22}{7}$  का प्रयोग कीजिये)

- Ans
- A. 5082
  - B. 7200
  - C. 4032
  - D. 3168

Question ID : 630680179919  
Status : Answered  
Chosen Option : B

Q.24 एक ट्रेन 6 hrs में अपने गंतव्य तक पहुंचने के लिए 54 km/h की चाल से यात्रा कर रही है, लेकिन 20% दूरी तय करने के बाद उसका इंजन बिगड़ जाता है, जिसके कारण ट्रेन को 33 min की देरी हो जाती है। गंतव्य तक समय पर पहुंचने के लिए ड्राइवर को ट्रेन की चाल को कितने प्रतिशत बढ़ाना चाहिए (दो दशमलव स्थानों तक सही)?

- Ans
- A. 10.96%
  - B. 12.94%
  - C. 10.24%
  - D. 11.54%

Question ID : 630680179912  
Status : Not Answered  
Chosen Option : --

Q.25

$$2 + \frac{1}{2 - \frac{1}{3 - \frac{1}{4 - \frac{1}{4}}}} = ?$$

- Ans
- A.  $\frac{15}{41}$
  - B.  $\frac{41}{67}$
  - C.  $2\frac{41}{67}$
  - D.  $2\frac{15}{41}$

INDIA

Question ID : 630680179897  
Status : Not Answered  
Chosen Option : --